



○, а ○

6 км²

$$\begin{array}{r} \times 23 \\ 2 \\ \hline 46 \end{array}$$

Я - ученик 4.0

30 шагов до 4-го класса

**Тетрадь для повторения школьной
программы третьего класса
по русскому языку и математике**

Дорогой друг!

Ты успешно выполнил все задания
и отлично подготовился к четвёртому классу!

Молодец!

Отдыхай, кушай ягоды и фрукты, набирайся сил!

Они тебе понадобятся в следующем учебном
году, чтобы получать новые знания. Удачи!

Дорогой друг!

Поздравляем тебя с успешным окончанием
третьего класса и переходом на следующую
ступеньку лестницы знаний!

Уверены, что ты усердно трудился и очень
старался в третьем классе, и поэтому у тебя
всё получилось!

А чтобы ты не забыл всё, чему научился,
выполняй наши задания. Эта работа не отнимет
у тебя много времени, но результат порадует
в конце лета.

Отличного летнего отдыха
и успехов в выполнении заданий!

📌 Дата _____

1. Прочитай. Определи тип каждого текста

Какой же это чудесный, этот сырой груздь! Белизна у него нежная и яркая. Перламутровая какая-то! И ни единой соринки на шляпке, на влажной ароматной бахромочке, с мельчайшими капельками на ресничках.

За что птица получила название клёст? Название произошло от старого русского слова клестить, что значит «сжимать, сдавливать, стискивать». Клюв этой птицы загнут крест-накрест, он как будто сжат, сдавлен.

Закинул рыболов в речку удочку. Сидит, ждёт, когда рыба клюнет. Вдруг поплавок на воде запрыгал и утонул. Значит, кто-то попался! Дёрнул рыбак удочку и вытащил окуня.

2. Вставь пропущенные цифры, чтобы равенства стали верными

$$\begin{array}{r} \square 7 \\ + 3 \square \\ \hline 65 \end{array}$$

$$\begin{array}{r} 5 \square \\ + \square 6 \\ \hline 80 \end{array}$$

$$\begin{array}{r} 9 \square \\ - \square 1 \\ \hline 9 \end{array}$$

$$\begin{array}{r} \square 5 \\ - 4 \square \\ \hline 39 \end{array}$$

$$\begin{array}{r} 34 \\ + 2 \square \\ \hline \square 5 \end{array}$$

$$\begin{array}{r} 9 \square \\ - 12 \\ \hline \square 8 \end{array}$$

$$\begin{array}{r} 58 \\ + \square \square \\ \hline 75 \end{array}$$

$$\begin{array}{r} 9 \square \\ - 47 \\ \hline \square 6 \end{array}$$

📌 Дата _____

1. Прочитай. Что заметили?

Без труда вытащить и рыбку из пруда.

Под лежащий камень вода течет.

Волков бояться - в лес ходить.

Слово - не воробей, вылетит - поймаешь.

Правда в огне горит и в воде тонет.

Подставь к глаголам частицу НЕ. Запиши. Как ты понимаешь смысл этих пословиц?

2. Вычисли. Запиши только ответ

Чему равна длина стороны квадрата, если его площадь 36 см^2 ? ☆

Найди делимое, если делитель равен 6, а частное - 12. ☆

Найди частное чисел 42 и 14. ☆

Найди сумму и разность чисел 450 и 30. ☆

Увеличь число 62 в 5 раз. ☆

Во сколько раз 640 больше 8? ☆

Проверь себя. Если ответ верный,

vk.com/inclass_primaryschool **раскрась звезду**

Дата _____

1. Реши задачу

На рынке купили 8 кг картофеля, а капусты в 4 раза больше. Сколько килограммов овощей купили на рынке?



2. Спиши текст. Поставь глаголы в прошедшее время. Определи их род, где это возможно

Мы уходим всё дальше в лес. В тепле и уюте леса тихонько дышит какой-то особенный шум. Скрипят клесты, звенят синицы, смеётся кукушка, звучит ревнивая песня зяблика. Изумрудные лягушки прыгают под ногами. Щёлкает белка, в лапах сосен мелькает её пушистый хвост. И тут всё замирает! Почему?




Дата _____

1. Реши уравнения

$$x - 68 = 7$$

$$y + 31 = 50$$



2. Прочитай текст. Найди и выпиши разные по цели высказывания предложения

— Что это? — закричали все. — Откуда этот дым?
— Не кричите! Это не дым, — сказал Знайка, облако. Мы поднялись в облаках.
— Ну, это ты сочиняешь, — ответил Незнайка. оно жидкое, как овсяный кисель, а это туман.

Повествовательное:



Вопросительное:



Побудительное:



Определи, какие они по интонации. Запиши рядом с каждым предложением

Дата _____

1. Придумай и запиши обращения. Расставь знаки

_____ как я рад вас видеть здоровыми и весёлыми!

_____ случилось невероятное.

Видишь _____ этот лес?


_____ как же эти рисунки могут нам помочь?

Как ты мог не поставить запятую в этом предложении

_____ ?

Нет _____ это совсем другое море.

2. Вставь пропущенные числа. Слева двигайся снизу вверх, а справа - наоборот. Раскрась, как нравится



Дата _____

1. Запиши глаголы в нужный столбик

Читали, желтеет, решал, вставать, заработают, отправляет, порадуются, напишет, прыгать, сделала, спит, лететь

Настоящее время	Прошедшее время	Будущее время	Неопределённая форма

*Желтеет*³ -

2. Реши примеры и узнай скорость каждого автомобиля. Раскрась самый быстрый из них

9 7 6 | 4



6 8 | 3



5 6 4 | 2



7 6 4 | 4



Дата _____

1. Вставь пропущенные цифры, чтобы равенства стали верными

$$\begin{array}{r} \square 53 \\ \times \quad \square \\ \hline 765 \end{array}$$

$$\begin{array}{r} \square 68 \\ \times \quad \square \\ \hline 840 \end{array}$$

$$\begin{array}{r} \square 98 \\ \times \quad \square \\ \hline 596 \end{array}$$

$$\begin{array}{r} \square 31 \\ \times \quad \square \\ \hline 462 \end{array}$$

$$\begin{array}{r} \square 97 \\ \times \quad \square \\ \hline 788 \end{array}$$

$$\begin{array}{r} \square 19 \\ \times \quad \square \\ \hline 657 \end{array}$$

$$\begin{array}{r} \square 71 \\ \times \quad \square \\ \hline 855 \end{array}$$

$$\begin{array}{r} \square 23 \\ \times \quad \square \\ \hline 861 \end{array}$$

$$\begin{array}{r} \square 65 \\ \times \quad \square \\ \hline 660 \end{array}$$

$$\begin{array}{r} \square 59 \\ \times \quad \square \\ \hline 518 \end{array}$$

$$\begin{array}{r} \square 82 \\ \times \quad \square \\ \hline 564 \end{array}$$

$$\begin{array}{r} \square 54 \\ \times \quad \square \\ \hline 616 \end{array}$$

2. Закрасьте жёлтым цветом глаголы в единственном числе, а глаголы во множественном числе – зелёным

улыбался

напоминает

благодарят

радуются

шагают

сверкают

приоткрыла

посчитаем

разместим

добавили

заполняет

Дата _____

1. Вставь в текст задачи правильные числа и реши её



Мама попросила Асю купить 2 пакета молока и разрешила купить шоколадку. Молоко стоит _____ р, а шоколадка - _____ р. Сколько сдачи получит девочка, если у неё купюра в 500 рублей?

2. Прочитай. В распространённых предложениях подчеркни грамматическую основу. В одно из нераспространённых добавь второстепенные члены. Запиши его

Гроза надвигалась. Впереди огромная лиловая туча медленно поднималась из-за леса. Неслись облака. Ракиты тревожно шевелились и лепетали. Душный жар сменился влажным холодом.

Дата _____

1. Составь из простых предложений сложное. Запиши их с нужными союзами. Подчеркни подлежащее и сказуемое

Летом родители отдыхали на море.

Солнце было уже высоко.

Мы с бабушкой поехали в деревню.

Вода в озере оставалась холодной.

2. Вычисли

$$36 + (63 - 33) : 3 =$$

$$78 : 3 + (94 - 60) : 2 =$$

$$(100 - 28) : 9 - 1 =$$

$$3 \cdot (17 - 11) : 2 =$$

Дата _____

1. Образуй от данных глаголов неопределённую форму

Приготовила - _____

Перескажет - _____

Выполним - _____

Пропустишь - _____

Открыли - _____

Запишут - _____

Утомил - _____

Выбираем - _____

Остановил - _____

Передашь - _____

2. Реши уравнения

$$x \cdot 2 = 720$$

$$y : 5 = 170$$

Дата _____

1. Вычисли

$$\begin{array}{r} 385 \\ + 268 \\ \hline \end{array}$$

$$\begin{array}{r} 597 \\ + 334 \\ \hline \end{array}$$

$$\begin{array}{r} 361 \\ + 294 \\ \hline \end{array}$$

$$\begin{array}{r} 463 \\ + 177 \\ \hline \end{array}$$

$$\begin{array}{r} 572 \\ - 134 \\ \hline \end{array}$$

$$\begin{array}{r} 751 \\ - 324 \\ \hline \end{array}$$

$$\begin{array}{r} 637 \\ - 284 \\ \hline \end{array}$$

$$\begin{array}{r} 813 \\ - 634 \\ \hline \end{array}$$

2. Составь из слов предложения. Запиши текст.

Подпиши число и лицо местоимений.

У местоимений 3-го лица определи род

в, мы, зоопарк, пришли

уточка, пруду, плавала, в

берегу, и, подплыла, к, закричала, она

мы, здание, потом, в, вошли

и, большое, оно, было, тёплое

старый, жил, слон, здесь

обедал, он

лохматыми, ещё, долго, наблюдал, яками, я, за

Дата _____

1. Запиши только ответ

1. Число 270 увеличь на 30. _____
2. Запишите число, которое следует при счёте за числом 599. _____
3. Запишите числа: 4сот. 0дес. 7ед., 3сот. 9дес., 7 сот, 6 ед. _____, _____, _____
4. Запишите числа восемьсот, шестьсот тридцать. Рядом числа, которые предшествуют каждому из них. _____
5. На сколько 500 больше 120? _____
6. Во сколько раз 70 меньше 630? _____
7. Найдите разность чисел 880 и 400. _____
8. Сумму чисел 500 и 300 увеличь на 4 десятка. _____
9. Число 750 уменьши в 5 раз. _____
10. Найдите частное чисел 360 и 90. _____
11. Чему равен первый множитель, если произведение 450, а второй множитель 50? _____
12. Частное 5, делитель 80. Чему равно делимое? _____

2. Разгадай ребусы. Запиши фразеологизмы



Когда так говорят?

Дата _____

1. Заполни таблицу и реши задачу

Масса 3 одинаковых корзин со смородиной 27 кг. Найди массу 8 таких корзин.

Масса одной корзины	Количество корзин	Общая масса

2. Запиши новое предложение, заменив выделенное слово

1) синонимом

Ты наделён **смелостью** и отвагой, которые помогут тебе в бою.

2) антонимом

Завтра будет тепло?

Составь предложение, употребив выделенное слово в другом значении

В лесу живёт маленькая птичка **овсянка**.

В русском языке слово «**овсянка**» называется _____

Дата _____

1. Выпиши из текста словосочетания (им.прил+им.сущ) в разных падежах

Лето

Коротка летняя ночь. Заиграл первый луч солнца. Всюду проснулась жизнь. На зелёный лужок прилетели пчёлы. Жужжат над разноцветными цветами мохнатые шмели.

К лесной опушке слетаются птицы. Слышны разные звуки, шорохи, голоса. Вот белочка в рыжей шубке сделала лёгкий прыжок и оказалась на вершинке высокой сосёнки.

И.п.

Р.п.

Д.п.

В.п.

Т.п.

П.п.

2. Соедини примеры и их ответы

230+90	730			
640+80		410		
930-50	490		330	880
350+60	320		850	
470-90		720		
	870			

Дата _____

1. Впиши в таблицу пропущенные числа

Футбольные мячи упакованы в коробки по 5 штук.
Сколько коробок понадобится для футбольных мячей.
А сколько не уместится?

Мячи	Коробки	Остаток
8		
11		
13		
16		
21		
34		
43		

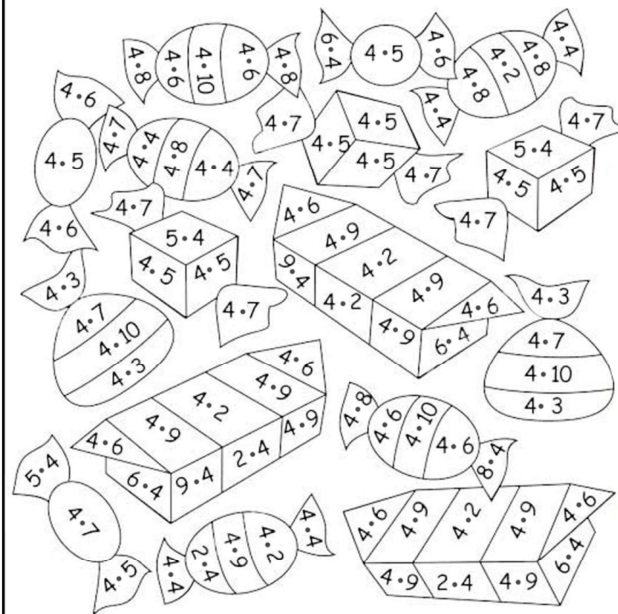
2. Согласуй имена прилагательные с именами существительными в нужном числе и роде. Обозначь окончание имён прилагательных

Ранн _____ утром уходили мы из дома далеко в лес. В прохладн _____ чист _____ воздухе пахнет свеж _____ сеном. Дальше бредём мы сух _____ болотом.

В глубок _____ мху нога тонет, будто в мягк _____ перине. Утренн _____ воздух наполнен резк _____ запахом травы.

Свежими³ (сеном) -

Дата _____



1. Вычисли и раскрась

- 8 - жёлтый
- 12 - красный
- 16 - зелёный
- 20 - оранжевый
- 24 - голубой
- 28 - синий
- 32 - розовый
- 36 - чёрный
- 40 - белый

2. Прочитай транскрипции (запись слов по звукам). Напиши эти слова. Выдели орфограммы

[г в а з' д' й' к а] [ж ы в' о т' н а й' э] [п а' э т] [п' и с' о' к]
[а д у в' а н' ч' и к] [в а с к р' и с' э' н' й' э] [з' а' ф' т' р а к]
[к в а р т' й' р а] [г' и р' о' й'] [а к у р' а' т' н ы й'] [ш а с: э']
[л' э' с' н' и' ц а] [и н т' и р' э' с' н а] [к а л' и к' т' й' ф]
[с т а л' й' ц а]

Дата _____

1. Отгадай загадки. Запиши отгадки. Выдели орфограммы. Подбери проверочные слова

Что пчеле подарит мёд?
Что на солнышке цветёт?
И головкою цветной
Нам качает в летний зной?

Утром бусы засверкали,
Всю траву собой заткали.
А пошли искать их днём –
Ищем, ищем — не найдём.

По морю идёт, идёт.
А до берега дойдёт
Тут и пропадёт.

В шахту спустится шахтер,
Принесёт воды во двор.

Брат с братом
Через дорогу живут,
Один другого
Не видит.

Избушка нова,
Жильца нет.
Жилец появится –
Избушка развалится.

2. Раскрась правильное решение каждой задачи

Собрали 21 кг
крыжовника, а ежевики
в 3 раза меньше.
Сколько кг ежевики
собрали?

Мама купила арбуз
весом 10 кг, а папа - в 2
раза тяжелее. Сколько кг
весил арбуз, который
купил папа?

$21 + 3 = 24$

$21 - 3 = 18$

$10 + 2 = 12$

$10 - 2 = 8$

$21 \cdot 3 = 63$

$21 : 3 = 7$

$10 \cdot 2 = 20$

$10 : 2 = 5$

Дата _____

1. Спиши. В каждом предложении подчеркни основу. Над существительными укажи, в каких падежах они употреблены

Ст..ит тёплый летний день. Выс..ко в небе плывёт яркое со..нце. З..мля уже дышит первой ж..рой. Синие и белые п..дснежки д..вно ..тцвели. На смену им взошли яркие россыпи других цв..тов. Над цв..тами л..тают красивые мотыл..ки. Прекрасно выглядит в эту пору лес.

2. Найди и исправь ошибки

$84 : 2 = 42$

$42 : 21 = 22$

$51 : 3 = 48$

$22 : 2 = 11$

$96 : 24 = 3$

$93 : 3 = 30$

$88 : 4 = 22$

$91 : 7 = 13$

Дата _____

1. Вычисли

$80 : 2 =$

$60 : 30 =$

$30 \cdot 3 =$

$24 \cdot 3 =$

$5 \cdot 10 =$

$2 \cdot 15 =$

$40 : 4 =$

$70 : 10 =$

$50 \cdot 2 =$

$14 \cdot 2 =$

$5 \cdot 20 =$

$17 \cdot 5 =$

2. «Летние падежи»

Просклоняй слова

И.п. (кто? что?) _____ *отдых* _____ *лето*

Р.п. (кого? чего) _____

Д.п. (кому? чему?) _____

В.п. (кого? что?) _____

Т.п. (кем? чем?) _____

П.п. (о ком? о чём?) _____

Об отдыхе³ -

Дата _____


1. Закрась все значения произведения таблицы умножения на 5

11	6	25	15	10	30	37
27	17	20	64	9	8	81
80	9	35	7	27	36	13
23	70	30	5	45	5	39
22	48	42	4	16	40	43
34	44	2	1	14	25	38
54	13	25	22	21	45	23
72	21	10	40	15	50	27

2. Разгадай кроссворд

Слова содержат парные по звонкости-глухости согласные звуки

По горизонтали



По вертикали



Отсканируй QR-коды, чтобы найти задания кроссворда

Дата _____

1. Вставь в примеры пропущенные числа.
Раскрась нужным цветом клеточку на пересечении первого и второго множителей

9									
8									
7									
6									
5									
4									
3									
2									
1									
0									
	0	1	2	3	4	5	6		


Второй множитель

Первый множитель

Оранжевый		Чёрный	
$3 \cdot _ = 6$	$1 \cdot _ = 3$	$_ \cdot 8 = 24$	
$_ \cdot 4 = 16$	$_ \cdot 3 = 15$	$_ \cdot 9 = 36$	
$_ \cdot 3 = 6$	$_ \cdot 3 = 9$		
$1 \cdot _ = 4$	$5 \cdot _ = 20$		
$4 \cdot _ = 12$	$_ \cdot 2 = 8$		
$_ \cdot 4 = 12$	$3 \cdot _ = 3$		
$_ \cdot 2 = 4$	$_ \cdot 4 = 8$		
Коричневый			
$_ \cdot 6 = 24$	$3 \cdot _ = 21$	$3 \cdot _ = 18$	
$2 \cdot _ = 10$	$_ \cdot 5 = 25$	$_ \cdot 6 = 12$	
$_ \cdot 7 = 14$	$_ \cdot 5 = 0$	$_ \cdot 6 = 6$	
$_ \cdot 5 = 30$	$4 \cdot _ = 28$	$5 \cdot _ = 30$	
$3 \cdot _ = 15$	$_ \cdot 5 = 5$	$_ \cdot 5 = 20$	

2. Соедини слово и его схему

- а) серебро
- б) рассказ
- в) бумажный
- г) перепроверка



Дата _____

1. Вставь, где нужно Ъ

Ключ __ сильнее замка.

Всю ночь __ собака на месяц пролаяла, а месяц того и не знал.

Какова мать, такова и доч __.

Всякую лож __ к себе приложи.

Беззаботна та мыш __, которая одну лазейку знает.

Меч __ туп - меченосец глуп.

В Москве калач __, как огонь горячий.

Вьётся как уж __, топорщится как ёж __.

Хорошую реч __ хорошо и слушать.

Коли не лож __, так правда.

2. Рассмотрни календарь на 2024 год и ответь на вопросы

2024

ЯНВАРЬ	ФЕВРАЛЬ	МАРТ
ПН ВТ СР ЧТ ПТ СБ ВС	ПН ВТ СР ЧТ ПТ СБ ВС	ПН ВТ СР ЧТ ПТ СБ ВС
1 2 3 4 5 6 7	1 2 3 4	1 2 3
8 9 10 11 12 13 14	5 6 7 8 9 10 11	4 5 6 7 8 9 10
15 16 17 18 19 20 21	12 13 14 15 16 17 18	11 12 13 14 15 16 17
22 23 24 25 26 27 28	19 20 21 22 23 24 25	18 19 20 21 22 23 24
29 30 31	26 27 28 29	25 26 27 28 29 30 31
АПРЕЛЬ	МАЙ	ИЮНЬ
ПН ВТ СР ЧТ ПТ СБ ВС	ПН ВТ СР ЧТ ПТ СБ ВС	ПН ВТ СР ЧТ ПТ СБ ВС
1 2 3 4 5 6 7	1 2 3 4 5	1 2
8 9 10 11 12 13 14	6 7 8 9 10 11 12	3 4 5 6 7 8 9
15 16 17 18 19 20 21	13 14 15 16 17 18 19	10 11 12 13 14 15 16
22 23 24 25 26 27 28	20 21 22 23 24 25 26	17 18 19 20 21 22 23
29 30	27 28 29 30 31	24 25 26 27 28 29 30
ИЮЛЬ	АВГУСТ	СЕНТЯБРЬ
ПН ВТ СР ЧТ ПТ СБ ВС	ПН ВТ СР ЧТ ПТ СБ ВС	ПН ВТ СР ЧТ ПТ СБ ВС
1 2 3 4 5 6 7	1 2 3 4	1
8 9 10 11 12 13 14	5 6 7 8 9 10 11	2 3 4 5 6 7 8
15 16 17 18 19 20 21	12 13 14 15 16 17 18	9 10 11 12 13 14 15
22 23 24 25 26 27 28	19 20 21 22 23 24 25	16 17 18 19 20 21 22
29 30 31	26 27 28 29 30 31	23 24 25 26 27 28 29 30
ОКТАБРЬ	НОЯБРЬ	ДЕКАБРЬ
ПН ВТ СР ЧТ ПТ СБ ВС	ПН ВТ СР ЧТ ПТ СБ ВС	ПН ВТ СР ЧТ ПТ СБ ВС
1 2 3 4 5 6	1 2 3	1
7 8 9 10 11 12 13	4 5 6 7 8 9 10	2 3 4 5 6 7 8
14 15 16 17 18 19 20	11 12 13 14 15 16 17	9 10 11 12 13 14 15
21 22 23 24 25 26 27	18 19 20 21 22 23 24	16 17 18 19 20 21 22
28 29 30 31	25 26 27 28 29 30	23 24 25 26 27 28 29 30 31

Сколько месяцев в году?

Сколько недель в году? _____

В какой день недели у тебя будет день рождения?

В какой день недели наступит Новый 2024 год?

Дата _____

1. Реши задачу

Друзья читают книгу Н. Носова «Витя Малеев в школе и дома», в которой 170 страниц. Одну десятую часть они уже прочитали.

Сколько страниц прочитали мальчики?

Сколько страниц им осталось прочитать?

Ответ:

2. Вставь пропущенные слова в стихотворение, которое помогает запомнить правило

К слову я подставлю «мой» -

Это значит род _____.

Женский род – запомню я –

То, про что скажу «_____».

_____ род оно «моё» -

Вот и выучил я всё.

Запиши по 3 имени существительного

Женский род	Мужской род	Средний род

Дата _____

1. От слов образуй однокоренные имена прилагательные. Подчеркни в них (если есть) неизменяемые согласные

город - _____

парус - _____

дети - _____

известие - _____

чудеса - _____

капуста - _____

честь - _____

радость - _____

опасность - _____

ужас - _____

вкус - _____

гигант - _____

ненастье - _____

лесть - _____

2. Реши задачу

У пристани стояло 36 лодок и 9 водных мотоциклов.

Во сколько раз меньше водных мотоциклов было?



Дата _____

1. Вычисли. Пройди лабиринт, соблюдая последовательность



$$\begin{array}{ccc} 3 \cdot 6 & 5 \cdot 6 \rightarrow 42 : 7 & \\ \downarrow & \downarrow & \downarrow \\ 6 \cdot 10 & 30 : 5 & 2 \cdot 6 \\ \downarrow & \downarrow & \downarrow \\ 54 : 6 & 18 : 3 & 6 \cdot 9 \\ \downarrow & \downarrow & \downarrow \\ 60 : 6 & 7 \cdot 6 & 36 : 6 \\ \downarrow & \downarrow & \downarrow \\ 24 : 6 & 48 : 8 & 4 \cdot 6 \\ \downarrow & \downarrow & \downarrow \\ 8 \cdot 6 \rightarrow 6 \cdot 6 & & 12 : 6 \end{array}$$

2. Вставь пропущенные буквы. Устно подбери проверочное слово. Запиши в две группы

Кармаш..к, слон..к, хвост..к, луч..к, кузнеч..к, мяч..к, уголоч..к, звоноч..к, корабл..к, вечероч..к, букет..к, дожд..к, ящ..к, прыщ..к

-ен-

-иш-



Дата _____

1. Определи число имён существительных

Я люблю простые лесные цветы.⁴ Когда приходит весна и тает снег, мы на целый день уходим в лес, греемся на солнце, слушаем пение птиц, собираем подснежники, вяжем из них маленькие букеты.

Эти простые цветы напоминают далёкое детство, родную любимую природу.

2. Вычисли. В таблице раскрась жёлтым цветом все клетки, на которых записан результат каждого примера

- 28 разделите на 4 и умножьте на 5.
- Уменьшите втрое 24.
- Частное 35 и 5 увеличьте в 8 раз.
- Какое число надо уменьшить в 6 раз, чтобы получилось 6?
- Найдите произведение чисел 8 и 6.
- Во сколько раз 18 больше 9?
- Сколько раз 2 содержится в 10?
- Какое число уменьшили в 7 раз и получили 9?
- Найдите частное чисел 54 и 6.

30	30	30	30	30	30	30	30	30	30	30	30	30	30	30	30	30	30	30	30
30	56	7	7	7	7	48	1	1	1	1	1	63	46	30					
30	4	56	7	7	7	48	1	1	1	1	63	46	46	30					
30	4	4	56	7	7	48	1	1	1	63	46	46	46	30					
30	4	4	4	56	7	48	1	1	63	46	46	46	46	30					
30	4	4	4	4	56	7	48	1	63	46	46	46	46	30					
30	5	5	5	5	35	35	35	8	8	8	8	8	8	30					
30	49	49	49	49	35	35	35	72	72	72	72	72	72	30					
30	49	49	49	49	36	11	9	3	2	72	72	72	72	30					
30	49	49	49	36	11	11	9	3	3	2	72	72	72	30					
30	49	49	36	11	11	11	9	3	3	3	2	72	72	30					
30	49	36	11	11	11	11	9	3	3	3	3	2	72	30					
30	36	11	11	11	11	11	9	3	3	3	3	3	2	30					
30	30	30	30	30	30	30	30	30	30	30	30	30	30	30					

Дата _____

1. Рядом с каждой задачей поставь знаки действия, которыми она решается

- На пришкольном участке ребята вырастили морковь. После того, как разложили морковь в 2 корзины по 6 кг в каждую, осталось ещё 28 кг. Сколько кг моркови вырастили ребята?
- В 2 месяцах 8 недель. Сколько недель в 9 месяцах?
- В библиотеке на одной полке стояло 12 книг, а на другой - в 2 раза больше. Все книги расставили на 4 полки. Сколько на каждой полке стало книг?
- Посадили 9 кг картофеля, а собрали 54 кг. Во сколько раз больше собрали, чем посадили?

2. Выбери нужную букву из скобок. Запиши

У малышки (Г,г) руши в корзинке (г,Г) руши.

Тётя (П,п) оля вернулась с (П,п) оля.

Денис (С,с) кварцов смотрел на (С,с) кварцов.

Тёма (В,в) асильков нарвал букет (В,в) асильков.

Дата _____

1. Раскрась карточки с суффиксом **-ок-** красным цветом, **-ек-** - синим, **-ик-** - зелёным

друж...к

песоч...к

хвост...к

бубенч...к

пуш...к

кирпич...к

человеч...к

совоч...к

клубоч...к

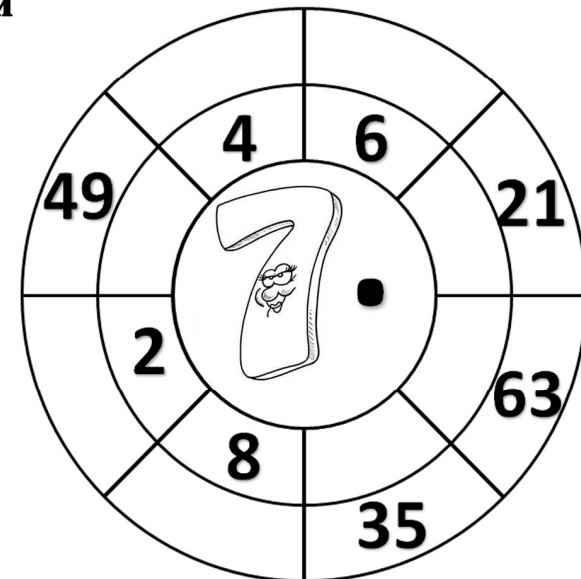
каблuch...к

билет...к

жуч...к

старич...к

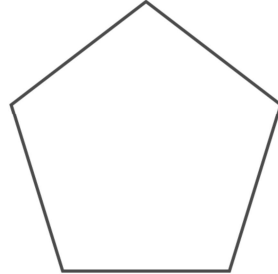
2. Вставь пропущенные числа в секторы мишени



Дата _____

1. Реши геометрическую задачу

Длина прямоугольника - 6 см, ширина - 3 см. Найди площадь пятиугольника, если известно, что она в 2 раза меньше площади прямоугольника.



2. Найди ошибки. Исправь. Спиши правильно

Волк ужасно разярён-

Сесть ежа не может он.

Ёж, хотя он и седобен,

Для седенья неудобен:

Сежась, выставил иголки-

Обегорил злого волка.

Дата _____

1. Найди слова с разделительным Ь. Запиши их. Выдели орфограммы

а	с	й	х	в	м	н	р	а	г
г	в	с	л	я	ф	р	н	г	с
н	ь	г	о	с	т	ь	я	н	э
д	щ	я	п	о	ё	д	я	д	в
л	й	л	ь	ё	т	л	й	л	ь
б	ё	л	я	а	ы	ж	с	щ	ю
е	м	я	ф	р	н	п	о	ш	г
л	ц	о	б	е	з	ь	я	н	а
ь	ч	д	й	щ	о	ё	л	й	ё
ё	и	л	с	ш	я	т	п	с	о

2. Найди пары пазлов. Раскрась

